







Colegio Elvira de Mendoza
5to grado de Primaria
Matemática
Guía 2 - Abril

I- Realiza la siguiente actividad

Figuras				
Lados				
Vértices				
Diagonales				
Ángulos				

Especificar cuántos lados, vértices, diagonales y ángulos tienen esas figuras.

II- Ejercicio 4 de la página 171

III- Escribe en el cuaderno el nombre de esas figuras y contestar las preguntas A, B, C y D en la mascota.

Fecha de entrega: viernes 24 de abril, 2020