



Colegio Elvira de Mendoza
2do grado de Primaria
Guía de matemáticas

I. Escribe el número que va a antes y después.

1. ____ 30 ____
2. ____ 15 ____
3. ____ 6 ____
4. ____ 25 ____
5. ____ 35 ____
6. ____ 70 ____

II. Escribe los símbolos $>$ $<$ $=$ según corresponda.

1. 126 ____ 324
2. 236 ____ 176
3. 998 ____ 501
4. 100 ____ 642
5. 35 ____ 35
6. 536 ____ 536

III. Completa las siguientes secuencias.

1. 200, 210, _____, _____, _____, _____, _____, 270.
2. 405, _____, _____, _____, 425, _____, _____, _____.
3. 620, _____, _____, 680, _____, _____, _____, _____.

IV. Suma y resta

$$\begin{array}{r} 1. \quad 340 \\ +125 \\ \hline \end{array}$$

$$\begin{array}{r} 5. \quad 340 \\ +125 \\ \hline \end{array}$$

$$\begin{array}{r} 2. \quad 435 \\ +323 \\ \hline \end{array}$$

$$\begin{array}{r} 6. \quad 435 \\ +323 \\ \hline \end{array}$$

$$\begin{array}{r} 3. \quad 563 \\ +127 \\ \hline \end{array}$$

$$\begin{array}{r} 7. \quad 563 \\ +127 \\ \hline \end{array}$$

$$\begin{array}{r} 4. \quad 454 \\ -232 \\ \hline \end{array}$$

$$\begin{array}{r} 8. \quad 454 \\ -232 \\ \hline \end{array}$$

V. Multiplica.

$$\begin{array}{r} 1. \quad 1 \\ \times 2 \\ \hline \end{array}$$

$$\begin{array}{r} 5. \quad 4 \\ \times 4 \\ \hline \end{array}$$

$$\begin{array}{r} 2. \quad 3 \\ \times 2 \\ \hline \end{array}$$

$$\begin{array}{r} 6. \quad 7 \\ \times 2 \\ \hline \end{array}$$

$$\begin{array}{r} 3. \quad 3 \\ \times 3 \\ \hline \end{array}$$

$$\begin{array}{r} 7. \quad 3 \\ \times 9 \\ \hline \end{array}$$

$$\begin{array}{r} 4. \quad 3 \\ \times 5 \\ \hline \end{array}$$

$$\begin{array}{r} 8. \quad 8 \\ \times 3 \\ \hline \end{array}$$

VI. División.

1. $12 \div 2 =$

2. $12 \div 3 =$


3. $16 \div 2 =$

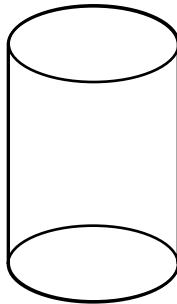
4. $20 \div 2 =$

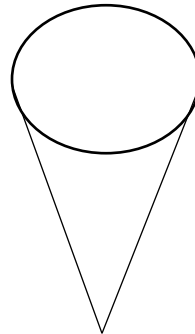
5. $15 \div 3 =$

6. $18 \div 3 =$

VII. Colorea los siguientes cuerpos sólidos y ponle su nombre.







VIII. Escribe los nombres de estos números ordinales.

- 1º _____
- 2º _____
- 3º _____
- 4º _____
- 5º _____
- 6º _____
- 7º _____
- 8º _____
- 9º _____
- 10º _____

IX. Escribe como se lee estos números.

- 3 _____
- 5 _____
- 6 _____
- 20 _____
- 32 _____
- 18 _____
- 9 _____
- 15 _____

X. Responde las siguientes preguntas de acuerdo al calendario.

1. ¿Cuál es el primer mes del año?

2. ¿Cuál mes está antes de diciembre?

3. ¿Cuál es el segundo mes del año?

4. ¿Cuáles meses tienen 30 días?

5. ¿Cuáles meses tienen 31 días?
